

**Processo de
Seleção para
o SEHAC
2018**

**Edital 001/2018
Turno: Manhã
Data: 17/02/2019**

**Nível Médio
e/ou Técnico**

**Auxiliar de
Saúde Bucal**



REALIZAÇÃO:



LÍNGUA PORTUGUESA

Questão 01)

Assinale a opção em que todas as palavras estão grafadas corretamente de acordo com a norma culta:

- A) jiló – berinjela – laje.
- B) giló – beringela – lage.
- C) jiló – beringela – laje.
- D) giló – berinjela – laje.
- E) jiló – berinjela – lage.

Questão 02)

“Mais vale um pássaro na mão do que dois voando” (ditado popular). Marque a palavra que **NÃO** pertence à mesma regra de acentuação de “pássaro”.

- A) Dinâmico.
- B) Problemático.
- C) Bíceps.
- D) Música.
- E) Paralelepípedo.

Questão 03)

Assinale a alternativa que completa **CORRETA** e respectivamente as lacunas:

- I. _____ 10 anos que não a vejo.
- II. Apesar do aumento do número de acidentes, não _____ muitas mortes.
- III. Em todo lugar _____ pessoas assim.

- A) Fazem; houveram; têm.
- B) Faz; houveram; tem.
- C) Fazem; houve; têm.
- D) Faz; houve; tem.
- E) Faz; houveram; têm

Questão 04)

Indique a alternativa **INCORRETA** de acordo com a norma culta:

- A) É necessário prudência ao dirigir.
- B) É proibido venda de bebida alcoólica para menores de idade.
- C) É proibida a venda de bebida alcoólica para menores de idade.
- D) É necessária prudência ao dirigir.
- E) Água é bom para hidratar a pele.

Questão 05)

Indique a opção cujo uso da crase está **CORRETO**:

- A) O show começará à partir das 16h.
- B) A moto estava à distância de dois metros.
- C) Pedro andou à cavalo ontem.
- D) Os lutadores estavam frente à frente para a disputa.
- E) Os alunos não estavam dispostos à colaborar com a professora.

Questão 06)

Marque a alternativa que apresenta derivação prefixal e sufixal ao mesmo tempo:

- A) Refluxo.
- B) Deslealdade.
- C) Conformismo.
- D) Desligar.
- E) Cheiroso.

Questão 07)

Aponte a opção com a acentuação **CORRETA** segundo o Novo Acordo Ortográfico:

- A) Ele não pode ver a filha dançar na escola ontem.
- B) As crianças não sabem por as coisas no lugar.
- C) Os brasileiros não lêem com muita frequência.
- D) O ônibus atingiu em cheio o para-choque do carro da frente.
- E) Correu para o banheiro porque estava com diarreia.

Questão 08)

Indique as alternativas com verdadeiro (V) ou falso (F).

- () “A lâmpada queimada foi trocada” – o verbo está na voz passiva.
- () “A prova foi feita por Armando” – o verbo está na voz ativa.
- () “Estudou-se o conteúdo do vestibular” – o verbo está na voz passiva sintética.
- () “Olhei-me no espelho” – o verbo está na voz ativa.

A ordem **CORRETA** de preenchimento dos parênteses, de cima para baixo, é:

- A) V – F – V – F.
- B) V – V – F – F.
- C) F – V – V – F.
- D) Todas são falsas.
- E) Todas são verdadeiras.

Leia o texto a seguir para responder às questões 9 e 10.

Memória

Amar o perdido
deixa confundido
este coração.

Nada pode o olvido
contra o sem sentido
apelo do Não.

As coisas tangíveis
tornam-se insensíveis
à palma da mão.

Mas as coisas findas,
muito mais que lindas,
essas ficarão.

(Carlos Drummond de Andrade)

Questão 09)

De acordo com a poesia acima, a palavra “findas”, na última estrofe, significa:

- A) Fincadas.
- B) Mortas.
- C) Infinitas.
- D) Terminadas.
- E) Fundas.

Questão 10)

A palavra “mas”, na última estrofe, representa uma conjunção:

- A) Aditiva.
- B) Explicativa.
- C) Adversativa.
- D) Conclusiva.
- E) Alternativa.

Conhecimento Específico

Questão 11)

Deve-se proceder a espátulação do cimento ionômero de vidro convencional da seguinte forma:

- A) Dividir o pó em duas metades, incorporando a primeira metade ao líquido durante 10 a 15 seg., seguindo da mistura restante do pó pelo tempo recomendado pelo fabricante, obtendo-se uma massa cremosa, vítrea e úmida;
- B) Dividir o pó em 4 partes iguais, incorporando $\frac{1}{4}$ desse pó por vez ao líquido durante 15 seg. cada parte, obtendo-se uma massa cremosa, vítrea e úmida;
- C) Dividir o pó em duas metades incorporando ao líquido a primeira metade do pó, seguida, imediatamente, da segunda metade, obtendo-se uma massa cremosa, opaca e seca;
- D) O pó deve ser incorporado ao líquido de uma única vez, obtendo-se uma massa cremosa, opaca e úmida;
- E) O pó deve ser incorporado ao líquido de uma única vez, obtendo-se uma massa áspera, vítrea e úmida.

Questão 12)

Indique que materiais são usados para isolamento absoluto:

- A) Arco de Yang, Pinça porta grampo, Dique de borracha, Pinça perfuradora Ainsworth;
- B) Sonda milimetrada, Pinça de algodão, Fio Dental, Pote dappen;
- C) Grampo de isolamento, instrumental de Black, Guta percha em Bastão, lima de osso;
- D) Lixa de papel, Lubrificante, Calcador de Paiva, Sonda exploradora afiada, colher de dentina;
- E) Carpule, Condensador de amálgama, régua milimetrada, bisturi.

Questão 13)

Pelas características da odontologia, tanto o conhecimento quanto as condutas relativas à prevenção da infecção cruzada no atendimento ambulatorial foram amplamente difundidas e adotadas pelos profissionais e serviços. A alternativa que contempla as orientações técnicas para o controle de infecções na prática odontológica é:

- A) Revelar placa e escovar os dentes antes da consulta e aplicar flúor após o atendimento;
- B) Usar de forma ininterrupta o aparelho de ar condicionado, fazer uso de EPI completo;
- C) Cobrir as superfícies passíveis de contaminação, proceder a desinfecção de todo o Instrumental a ser utilizado;
- D) Realizar limpeza dos artigos com desincrostantes enzimáticos, imergir as moldagens em hipoclorito a 2% por até 10 minutos;
- E) Higienizar previamente a boca do paciente; desprezar o primeiro jato de água e o spray da seringa triplíce e usar canetas de alta rotação autoclavadas para cada paciente.

Questão 14)

Para a esterilização de instrumentais e artigos odontológicos, o método eleito é o da autoclave. A temperatura e o tempo preconizados para o método são:

- A) 132° C (2 atm pressão), 10 minutos;
- B) 121° C (1 atm pressão), 30 minutos;
- C) 100° C (1 atm pressão), 15 minutos;
- D) 114° C (2 atm pressão), 4 minutos;
- E) 110° C (2 atm pressão) 30 minutos.

Questão 15)

A sequência que representa uma dentição decidua é:

- A) 21, 36, 12 e 48.
- B) 11, 51, 62 e 34.
- C) 62, 74, 83 e 55.
- D) 56, 76, 87 e 67.
- E) 64, 36, 72 e 28.

Questão 16)

Qual é atribuição da Auxiliar de Saúde Bucal?

- A) Suturar o alvéolo dentário após a exodontia.
- B) Anestésiar o paciente.
- C) Realizar raspagem articular.
- D) Trabalhar a quatro mãos.
- E) Realizar restauração.

Questão 17)

Indique os exemplos de artigos considerados críticos:

- A) Porta grampos, moldeiras, espelho clínico;
- B) Superfícies de armários e bancadas, Raio X;
- C) Fio de sutura, bisturi, lima de osso;
- D) Espátula 24, placa de vidro, pote dappen;
- E) Calcedor espatulado, pinça porta grampo, filme de Raio X.

Questão 18)

Promover a qualidade de vida e reduzir vulnerabilidade e riscos à saúde relacionados aos seus determinantes e condicionantes – modos de viver, condições de trabalho, habitação, ambiente, educação, lazer, cultura, acesso a bens e serviços essenciais, são objetivos (do) da:

- A) Política Nacional de Promoção da Saúde;
- B) Programa Nacional de Hipertensão e Diabetes;
- C) Política de Atenção de Média Complexidade;
- D) Programa de Práticas Integrativas e Complementares;
- E) Programa Nacional de Doenças Transmissíveis.

Questão 19)

O conjunto de ações de saúde, no âmbito individual e coletivo, que abrange a promoção e a proteção da saúde, a prevenção de agravos, o diagnóstico, o tratamento, a reabilitação, a redução de danos e a manutenção da saúde, com o objetivo de desenvolver uma atenção integral que impacte na situação de saúde e autonomia das pessoas e nos determinantes e condicionantes de saúde das coletividades caracterizam a:

- A) Atenção reabilitadora ;
- B) Atenção especializada;
- C) Alta complexidade;
- D) Atenção básica;
- E) Atenção domiciliar.

Questão 20)

A representação gráfica 16 corresponde ao elemento dentário:

- A) Primeiro molar superior esquerdo.
- B) Segundo molar inferior direito.
- C) Primeiro molar superior direito.
- D) Segundo molar superior esquerdo.
- E) Terceiro molar inferior esquerdo.

Questão 21)

Paciente apresenta-se ao consultório dentário para efetuar exodontia do elemento 15, para tal o fórceps elegível deve ser:

- A) 17;
- B) 18R;
- C) 18L;
- D) 151;
- E) 150.

Questão 22)

Indique qual é atribuição da Auxiliar de Saúde Bucal:

- A) Realizar tomada radiográfica;
- B) Realizar procedimentos restauradores;
- C) Auxiliar e instrumentar os profissionais nas intervenções clínicas;
- D) Supervisionar e capacitar o cirurgião dentista;
- E) Suturar o alvéolo dentário após a extração.

Questão 23)

O Levantamento Epidemiológico produz dados básicos tanto para o desenvolvimento do Programa Nacional de Saúde Bucal, quanto para o Planejamento Local da Programação das ações de Saúde bucal e para o dimensionamento das equipes em determinado território. Em relação à média do número total de dentes permanentes cariados, perdidos e obturados, o índice recomendado pela Organização Mundial de Saúde é:

- A) CEO;
- B) CPO-D;
- C) ISG;
- D) IPC;
- E) IHO.S.

Questão 24)

A Equipe de Saúde Bucal Modalidade II é composta de:

- A) Cirurgião dentista, Auxiliar de Saúde Bucal e Técnica de Saúde Bucal;
- B) Cirurgião dentista e Auxiliar de Saúde Bucal;
- C) Cirurgião dentista, Auxiliar de Saúde Bucal, Técnico de Prótese;
- D) Cirurgião dentista, Auxiliar de Saúde Bucal e Auxiliar de enfermagem;
- E) Cirurgião dentista, Agente Comunitário e Médico.

Questão 25)

A promoção de Saúde Bucal está inserida em um conceito amplo de Saúde que transcende a dimensão meramente técnica do setor odontológico, integrando a Saúde Bucal às demais práticas de Saúde coletiva. Significa a construção de políticas públicas saudáveis, estratégias direcionadas a todas as pessoas, como políticas que garantam:

- A) O acesso à água tratada e fluoretada;
- B) O acesso à alimentos sem açúcar;
- C) A tratamento antitabagista;
- D) A tratamento de implante dentário;
- E) Política de prevenção de acidentes de trânsito.

Questão 26)

Indique o método considerado na literatura como o mais racional do uso do flúor, que ao mesmo tempo que desorganiza o biofilme dental, agrega o flúor aos dentes e a cavidade bucal e é responsável pela redução cárie:

- A) Dentifrício fluoretado;
- B) Verniz fluoretado;
- C) Sal fluoretado;
- D) Colutório fluoretado;
- E) Flúor gel.

Questão 27)

Qual o nome da primeira camada que recobre externamente o dente?

- A) Dentina;
- B) Esmalte;
- C) Cimento;
- D) Tecido conjuntivo;
- E) Tecido ósseo.

Questão 28)

O ambiente do consultório é um espaço com muitos equipamentos rotatórios, de jateamento, com grande rotatividade de pessoas e inúmeros procedimentos, que vão de um simples exame a grandes cirurgias – procedimentos que levam ao contato com secreções da cavidade bucal, como a saliva, sangue, aerossóis, podendo ocorrer contaminação de profissionais, das superfícies e infecção cruzada. Diante do exposto o consultório odontológico é considerado uma área de:

- A) Baixo risco;
- B) Médio risco;
- C) Sem risco;
- D) Risco;
- E) Alto risco.

Questão 29)

Indique qual o objetivo da revelação de placa:

- A) mostrar ao paciente que ele não sabe escovar os dentes;
- B) tornar a placa bacteriana visível para o paciente limpar as áreas que ainda tem placa;
- C) corar a mucosa bucal e a língua para avaliação do dentista;
- D) cumprir o protocolo de ações da Auxiliar de Saúde Bucal;
- E) realizar a produção obrigatória de procedimentos por mês.

Questão 30)

A avaliação periodontal inclui além do diagnóstico da presença e ausência da doença à identificação de outros elementos que possam representar risco para o desenvolvimento da patologia. O cálculo dental em relação a doença periodontal é:

- A) fator retentivo de placa;
- B) responsável pela gengivite;
- C) patognomônico de periodontite;
- D) fator etiológico;
- E) sem interferência periodontal.

Noções de Informática**Questão 31)**

Um funcionário do está visualizando a Área de Trabalho na tela do computador sob gerência do No Windows 7 BR. Em determinado momento, ele pressionou a tecla




isoladamente. Esse procedimento tem por objetivo acionar o seguinte recurso do sistema operacional:

- A) Windows Update;
- B) Menu Iniciar;
- C) Painel de Controle;
- D) Menu de Configurações;
- E) Windows Explorer.

Questão 32)

No Windows 7 versão em português, fecha-se

uma janela clicando-se no botão  existente no canto superior direito ou por meio de um atalho de teclado que corresponde ao acionamento simultâneo das teclas **Alt** e:

- A) F1;
- B) F2;
- C) F3;
- D) F4;
- E) F5.






Questão 33)

No uso dos recursos do gerenciador de pastas e arquivos no Windows 7 versão em português, um usuário do sistema executou o atalho de teclado Ctrl + A com o seguinte objetivo:

- A) Criar uma nova pasta no disco rígido;
- B) Exibir os arquivos armazenados no modo "Detalhes";
- C) Selecionar todos os arquivos armazenados em uma pasta;
- D) Apagar todos os arquivos armazenados na pasta em edição;
- E) Classificar os arquivos armazenados em ordem ascendente por "Nome".











Questão 34)

No uso dos recursos do processador de textos Writer do pacote LibreOffice, para se aplicar o alinhamento centralizado a um parágrafo pode-se acionar um ícone ou executar um atalho de teclado. O ícone e o atalho de teclado são respectivamente:

- A)  e Ctrl + C;
- B)  e Ctrl + C;
- C)  e Shift + C;
- D)  e Ctrl + E;
- E)  e Ctrl + E.

Questão 35)

No uso dos recursos do processador de textos Word do pacote MSOffice, um ícone deve ser empregado para diminuir o tamanho da fonte e outro para alterar a cor da fonte. Esses ícones são respectivamente:

- A)  e  ;
- B)  e  ;
- C)  e  ;
- D)  e  ;
- E)  e  .

Questão 36)

A planilha da figura abaixo foi criada no Calc do pacote LibreOffice, versão em português.

	A	B	C	D
1	HOSPITAL ALCIDES CARNEIRO Petropolis/RJ			
2				
3				
4				
5				
6	17	13	21	25
7				
8			Soma =	?
9				
10			Média =	?
11				
12			Maior =	25

Nessa planilha, foram executados os procedimentos listados a seguir.

- Em D8 foi inserida a expressão =SOMA(A6;D6)
- Em D10 foi inserida a expressão =MÉDIA(A6:D6)
- Em D12 foi inserida uma expressão usando a função MAIOR para determinar o maior número entre todos nas células A6, A7, A8 e A9.

Nessas condições, os números mostrados em D8 e em D10 e a expressão inserida em D12 são, respectivamente:

- A) 42, 21 e =MAIOR(A6:D6);
- B) 76, 19 e =MAIOR(A6:D6);
- C) 42, 19 e =MAIOR(A6:D6);
- D) 76, 21 e =MAIOR(A6:D6;1);
- E) 42, 19 e =MAIOR(A6:D6;1).

Questão 37)

A figura abaixo ilustra alguns recursos disponíveis no Powerpoint do pacote MSOffice 2013 BR, que podem ser utilizados numa apresentação de slides.



Esses recursos são mostrados na Faixa de Opções do software, quando se aciona a seguinte guia na Barra de Menus:

- A) Animações;
- B) Transições;
- C) Design;
- D) Revisão;
- E) Suplementos.

Questão 38)

No uso dos recursos da internet, duas atividades são bastante usuais, caracterizadas a seguir.

(I) Baixar o programa de instalação Adobe Reader para leitura de arquivos em formato PDF.

(II) Enviar arquivos de atualização para um site, hospedado em um provedor web.

As atividades (I) e (II) são denominadas, respectivamente:

- A) uplink e downlink;
- B) upload e download;
- C) downstream e upstream;
- D) download e upload;
- E) downlink e uplink.

Questão 39)

No uso dos recursos da internet, é comum a utilização de browsers para navegação em sites. No browser Google Chrome, um recurso permite a visualização dos sites na modalidade "Tela Cheia". Para isso, estando na tela do Google Chrome, deve-se pressionar a seguinte tela de função:

- A) F11;
- B) F10;
- C) F9;
- D) F8;
- E) F7.

Questão 40)

Atualmente é fundamental a realização de cópias de segurança quando se utilizam computadores nas atividades de rotina, o que pode ser feito por meio do emprego de pendrives e discos rígidos, visando garantir a integridade dos dados e informações. Essa atividade é denominada:

- A) Swap;
- B) Proxy;
- C) Backup;
- D) Firewall;
- E) Spam.

INSTRUÇÕES

1. Ao ser dado o sinal de início da prova confira se a numeração das questões e a paginação estão corretas. A prova é composta de **40** questões objetivas: 10 questões de Língua Portuguesa, 20 questões de Conhecimento Específico e 10 questões de Noções de Informática.
2. Verifique, na folha de respostas, se seu nome, número de inscrição, cargo e data de nascimento estão corretos. Caso observe alguma discordância ocorrida em um dos itens anteriores, comunique ao Fiscal da sala e solicite a presença do Coordenador do local.
3. Quaisquer anotações só serão permitidas se feitas no caderno de questões, mas somente as respostas assinaladas na folha de respostas serão objeto de correção.
4. Leia atentamente cada questão e assinale na folha de respostas a alternativa que responde corretamente a cada uma delas.
5. Observe as seguintes recomendações relativas a folha de respostas:
 - não haverá substituição por erro do candidato;
 - não deixe de assinar no campo próprio;
 - não pode ser dobrada, amassada, rasurada, manchada ou conter qualquer registro fora dos locais destinados às respostas;
 - a maneira correta de marcação das respostas é cobrir, fortemente, com esferográfica de tinta azul ou preta, o espaço correspondente à letra a ser assinalada;
 - outras formas de marcação diferentes da que foi determinada acima implicarão a rejeição da folha de respostas;
 - não serão consideradas questões:
 - não assinaladas;
 - com falta de nitidez;
 - com mais de uma alternativa assinalada.
6. O Fiscal não está autorizado a alterar quaisquer dessas instruções bem como prestar esclarecimentos sobre o conteúdo da prova.
7. Você só poderá retirar-se da sala após **60** minutos do início da prova, e o tempo total para realização da mesma é de **três** horas.
8. Os três últimos candidatos deverão permanecer na sala até que o último candidato entregue a folha de respostas.
9. Ao terminar a prova, entregue a folha de respostas juntamente com este caderno. Caso queira anotar suas respostas, faça-o na tabela abaixo, e destaque-a somente quando terminar a prova.
10. Qualquer ocorrência diferente das relacionadas deve ser informada ao Coordenador do local.

Boa Prova!

✂ =====

01	02	03	04	05	06	07	08	09	10	11	12	13	14	15	16	17	18	19	20
21	22	23	24	25	26	27	28	29	30	31	32	33	34	35	36	37	38	39	40